

2024(令和 6)年度入学試験問題

社 会

(注意) 解答はすべて解答用紙に記入しなさい。

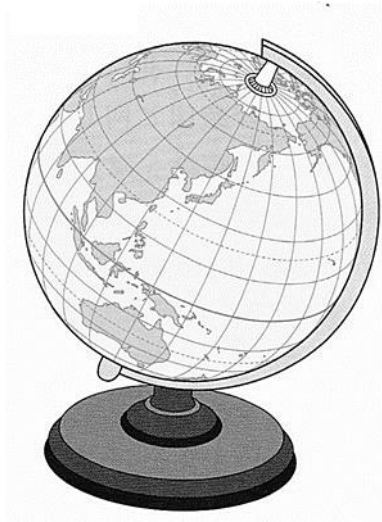
盈進中学校

1 次の各問いに答えなさい。

問1 昨年、日本でG7 サミット(主要国首脳会議)がおこなわれました。G7 の国に^{ふく}含まれないものはどれですか。次のア～エのうちから一つ選び、記号で答えなさい。

ア フランス イ イタリア ウ ドイツ エ 中国

問2 次の地球儀^{ちきゅうぎ}を見て、下の問い(1)・(2)に答えなさい。



(1) オーストラリア大陸から見て、日本はどの方位に位置していますか。次のア～エのうちから一つ選び、記号で答えなさい。

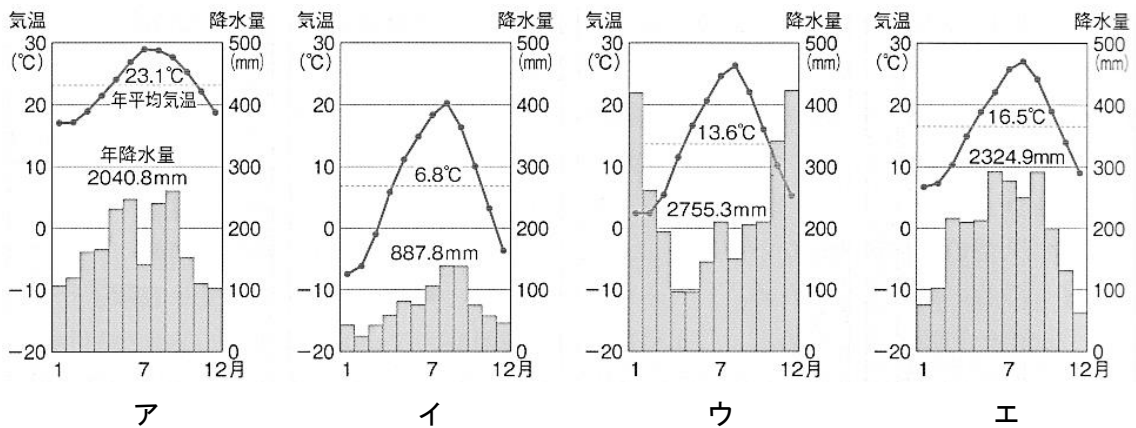
ア 南 イ 西 ウ 北 エ 東

(2) 地球儀の特色について述べた文のうち、正しいものはどれですか。次のア～エのうちから一つ選び、記号で答えなさい。

- ア 一目で地球全体の海と陸の分布が見られる。
- イ 2地点間の^{きょり}距離がわかる。
- ウ 高^{いど}緯度の地域は面積が大きく表される。
- エ 赤道より南側の部分が表示できない。

問3 自然のめぐみに感謝しながら、すべてのものにカムイ(神)を感じて暮らしていた北海道の先住民族を答えなさい。

問4 次のグラフは、北海道の気候、日本海側の気候、太平洋側の気候、南西諸島の気候の代表的な都市の気温と降水量を示したものです。北海道の気候にあてはまるのはどれですか。下のア～エのうちから一つ選び、記号で答えなさい。

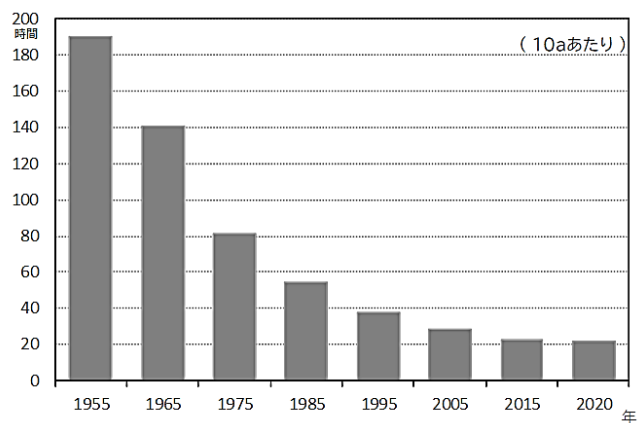


問5 右の写真は、北海道の家の屋根を撮ったものです。屋根が内側にかたむいている家が増えている理由として、正しいものはどれですか。次のア～エのうちから一つ選び、記号で答えなさい。




- ア 雪が落ちないようにするため。
- イ 強い風から家を守るため。
- ウ 水不足にそなえるため。
- エ 火山灰がつもらないようにするため。

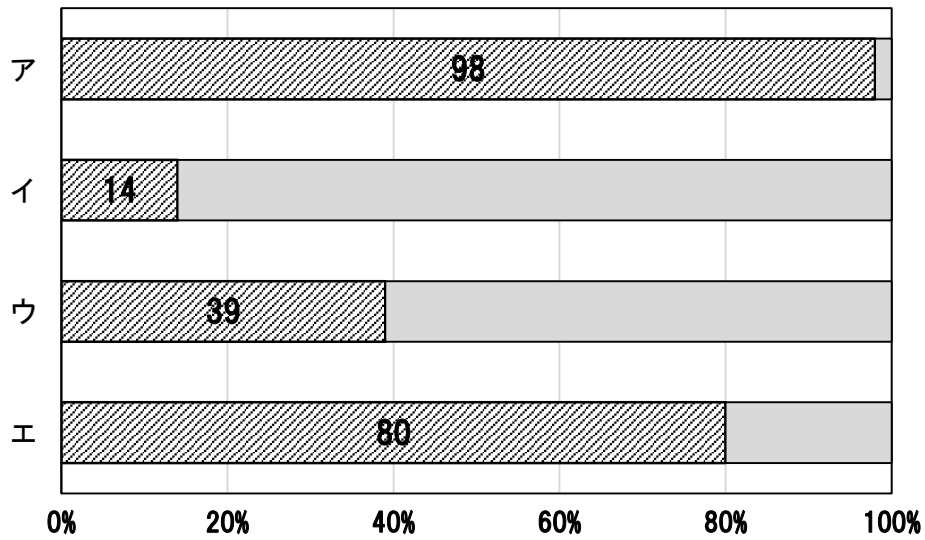
問6 次のグラフは、田んぼ10aあたりの年間労働時間を示したものです。労働時間が短くなった理由として、正しいものはどれですか。下のア～エのうちから一つ選び、記号で答えなさい。



(農林水産省資料)

- ア インターネットからの注文が増えたから。
- イ 高齢化がすすみ後継者がいなくなったから。
- ウ 専業農家が増えたから。
- エ 田植え機やコンバインなどの機械を使うようになったから。

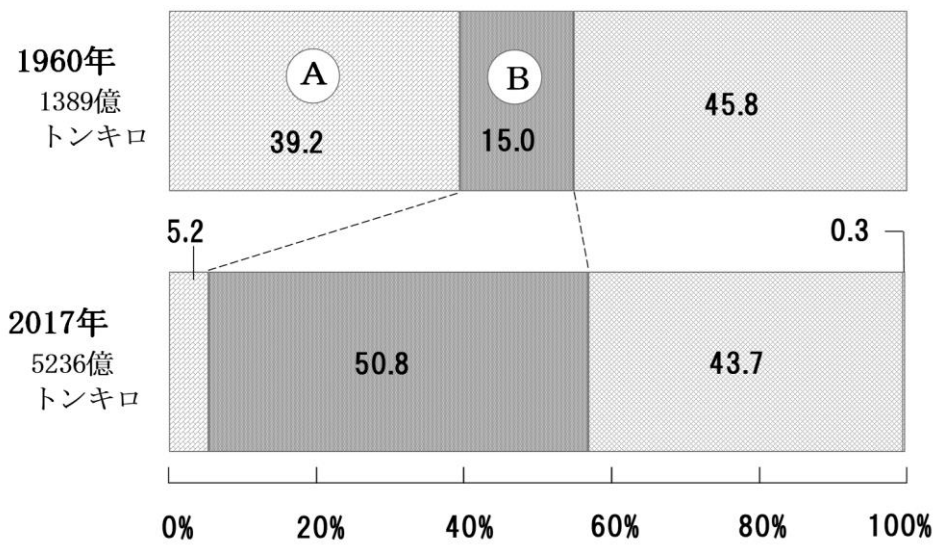
問7 次のグラフ中の  は、日本における米、小麦、果物、野菜の自給率を示したものです。果物にあてはまるものはどれですか。下のア～エのうちから一つ選び、記号で答えなさい。



※重量から計算したもの

(農林水産省資料)

問8 次のグラフは、日本の貨物輸送の変化を示したものです。A・Bにあてはまる語句の組み合わせとして、正しいものはどれですか。下のア～エのうちから一つ選び、記号で答えなさい。



(国土交通省資料)

- ア A. 鉄道 B. 自動車 イ A. 鉄道 B. 船
 ウ A. 船 B. 自動車 エ A. 船 B. 鉄道

問9 日本の工業生産の課題を解決するための取り組みについて述べた文のうち、誤っているものはどれですか。次のア～エのうちから一つ選び、記号で答えなさい。

- ア 原料や燃料となる資源がとぼしく、輸入にたよっているため、使い終わった製品をリサイクルしている。
- イ 自国の産業を守るため自由な貿易を制限し、自動車などの製品はすべて国内で生産している。
- ウ 工場やさまざまな施設^{しせつ}で人の代わりに働くロボットの開発を進めている。
- エ 持続可能な社会を目指し、環境^{かんきょう}に配慮^{はいりよ}した製品づくりを進めている。

問10 次の文は、ある工業について述べたものです。あてはまる工業はどれですか。下のア～エのうちから一つ選び、記号で答えなさい。

原料や製品を運ぶのに便利な海ぞいに工場が立地することが多い。高速道路を使って運べることから、海から離れた内陸でも工場が立地している。

- ア 自動車 イ 造船 ウ 鉄鋼 エ 石油化学

問11 工業地帯・工業地域について述べた文のうち、正しいものはどれですか。次のア～エのうちから一つ選び、記号で答えなさい。

- ア 京浜^{けいひん}工業地帯と京葉工業地帯の間には、東海工業地域が広がっている。
- イ 関東内陸工業地域は、神奈川県と山梨県に広がる工業地域である。
- ウ 中京工業地帯は、福井県と長野県に広がる工業地帯である。
- エ 瀬戸内工業地域は、中国・四国地方に広がる工業地域である。

2 次の各問いに答えなさい。

問1 次の資料は、福山市が 2022 年からのゴミの出し方を示したものです。変更点を説明した文のうち、誤っているものはどれですか。下のア～エのうちから一つ選び、記号で答えなさい。
 ※変更点①については、沼隈町、内海町は除く。

資料

変更点①

新聞・雑誌・段ボールは、新たに設ける「紙類」の日に回収します。

毎月1回目の「不燃（破碎）ごみ」の日が「紙類」の日に、変更になります。

2022年 4月 APRIL						
日	月	火	水	木	金	土
3	4	5	6	7	8	9
10	11	12	13	14	15	16
17	18	19	20	21	22	23
24	25	26	27	28	29	30

変更点②

充電式電池の回収を始めます。年4回の「燃やせる粗大ごみ」の日に収集します。

対象品目

- ・繰り返し使える電池
- ・モバイルバッテリー
- ・充電式小型バッテリー

- ア 充電式電池は「燃やせる粗大ごみ」の日に回収するようになった。
 イ 新聞の回収は新たな日を設けて回収するようになった。
 ウ 毎月1回目の「不燃（破碎）ごみ」の日が「紙類」の日になった。
 エ 雑誌は回収しなくなった。

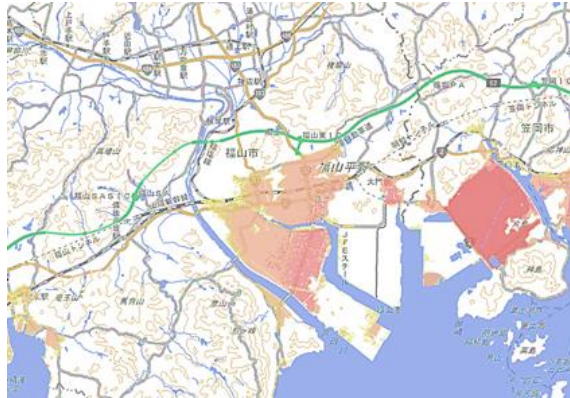
問2 ごみを減らすための3Rについて述べた文のうち、リサイクルにあてはまるものはどれですか。次のア～エのうちから一つ選び、記号で答えなさい。

- ア 飲み終えたペットボトルを資源ごみに分別して捨てる。
 イ プラスチックストローを紙ストローに変える。
 ウ 着なくなった服をフリーマーケットに出したり、必要な人にあげたりする。
 エ スーパーマーケットにはマイバックを持っていく。

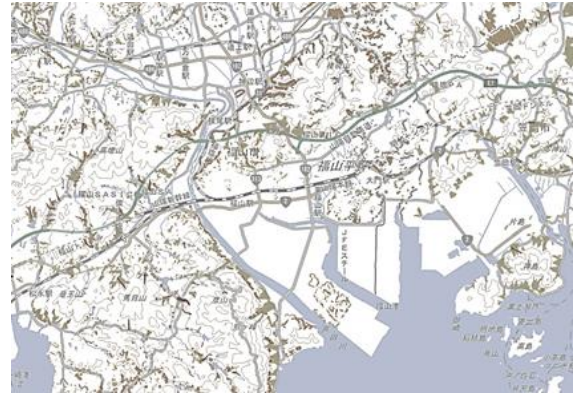
問3 ハザードマップは、何のために作られたものですか。次のア～エのうちから一つ選び、記号で答えなさい。

- ア 年末年始などに車が渋滞しやすい道を調べるため。
 イ 避難場所や避難経路を確認し、自然災害の被害を減らすため。
 ウ 犯罪が起こりやすい場所を確認し、子どもの安全を守るため。
 エ 災害が起きた後、ボランティアが必要とされているところを探すため。

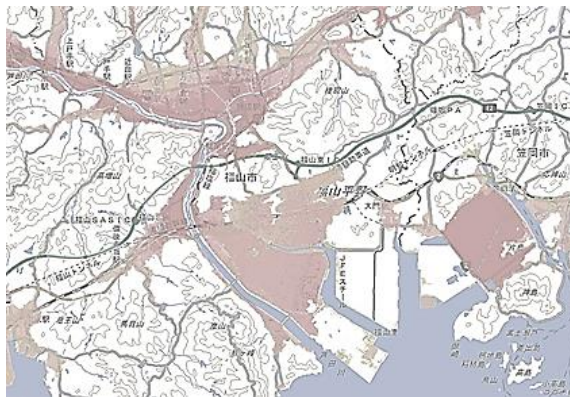
問4 次の図中の赤い部分は、福山市が作成した津波、土砂災害、^{つなみ}洪水の被害が出ると想定される範囲を示したものです。洪水にあてはまるものはどれですか。下のア～ウのうちから一つ選び、記号で答えなさい。



ア



イ



ウ

問5 南海トラフ地震^{じしん}が起きると、太平洋沿岸の広い地域で10mをこえる津波が発生すると想定されています。次の①～③は、津波が発生するしくみについて述べたものです。津波が発生するまでの順を正しく並びかえたものはどれですか。下のア～カのうちから一つ選び、記号で答えなさい。

- ① 海底のプレートにひずみがたまる。
- ② プレートがずれて地震がおきる。
- ③ 海水が持ち上げられる。

ア ① → ② → ③
 エ ② → ③ → ①

イ ① → ③ → ②
 オ ③ → ① → ②

ウ ② → ① → ③
 カ ③ → ② → ①

問6 森林の役割について述べた文のうち、誤っているものはどれですか。次のア～エのうちから一つ選び、記号で答えなさい。

- ア 二酸化炭素を吸収することで、地球温暖化を防いでいる。
- イ 雨水が森の土にしみ込むことで、きれいな水を生み出している。
- ウ 森林を伐採^{ぼっさい}することで、土砂くずれを防いでいる。
- エ 降った雨水をたくわえることで、洪水などの水害を防いでいる。

問7 四大公害病の一つである四日市ぜんそく^{よっかいち}の原因として、正しいものはどれですか。次のア～エのうちから一つ選び、記号で答えなさい。

- ア 騒音^{そうおん}や振動^{しんどう}
- イ 鉱山からの排水^{はいすい}
- ウ 工場からの排水
- エ 工場からのけむり

問8 コンビニエンスストアが商品を発注するときに参考^{さんこう}にしている情報として、誤っているものはどれですか。次のア～エのうちから一つ選び、記号で答えなさい。

- ア 運動会など近隣^{きんりん}地域の行事
- イ 交通渋滞の予想
- ウ 売れている商品の種類や数
- エ 明日の天気予報

3 次の各問いに答えなさい。

問1 縄文時代の人々は、地面を浅く掘り、草などでふいた屋根のある（ ）住居に住んでいました。（ ）に入る語句を答えなさい。

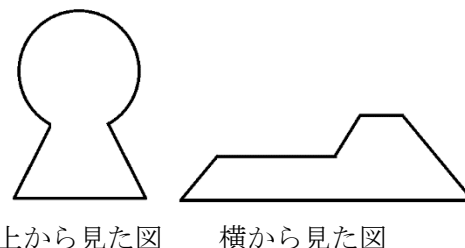
問2 縄文時代の人々の生活について述べた文として、正しいものはどれですか。次のア～エのうちから一つ選び、記号で答えなさい。

- ア 鉄で作った道具を使って狩りをしていた。
- イ 木の実や山菜、貝などを集めていた。
- ウ 人々が集まる場所で定期的に市が開かれていた。
- エ 季節の変化とともに決まった時期に行う年中行事があった。

問3 弥生時代について述べた文として、誤っているものはどれですか。次のア～エのうちから一つ選び、記号で答えなさい。

- ア 祭りの時に飾ったり鳴らしたりした銅鐸が作られていた。
- イ 各地でムラができ、さらに大きなクニが成立した。
- ウ 人々は力を合わせて食料を手に入れていたため、争いはまったく起こらなかった。
- エ 卑弥呼が30ほどのクニを従えた連合国を作っていた。

問4 4～5世紀ころになると、右の図のような形をした巨大な墓が出現しました。このような形をした墓を何というか答えなさい。



問5 問4のような墓が、現在の奈良を中心に多く集まっていることから、ここに政府があったと考えられています。この政府を何というか答えなさい。

問6 飛鳥時代に入ると、天皇を中心とした新しい国づくりが始まり、次の資料のようなものが作られました。これを何というか答えなさい。

- | | |
|-----|-------------------|
| 第一条 | 人の和を第一にしなればなりません。 |
| 第二条 | 仏教をあつく信仰しなさい。 |
| 第三条 | 天皇の命令は、必ず守りなさい。 |

問7 問6について述べた文として、正しいものはどれですか。次のア～エのうちから一つ選び、記号で答えなさい。

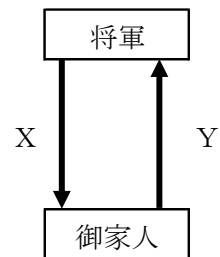
- ア 政治を行う役人の心得が書いてある。
- イ 家柄いへがらに関係なく能力や功績で役人を取り立てることが書いてある。
- ウ 豪族ごうぞくは一族ごとに決められた役職につくことを定めた。
- エ 中国の政治制度をとり入れ内閣制度を定めた。

問8 平安時代には藤原氏ふじわら一族が天皇にかわって政治を進めていた。藤原氏の政治について述べた文として、正しいものはどれですか。次のア～エのうちから一つ選び、記号で答えなさい。

- ア 中国に遣いを送り、称号しょうごうをもらうことで権力を強めていった。
- イ 自分の子に職をゆずり、自らは上皇として政治を行った。
- ウ 貴族しんぼんを親藩・譜代ふだい・外様とさまに分けて全国に配置した。
- エ むすめを天皇のきさきとして、生まれた子を天皇にして支えていた。

問9 右の図は鎌倉時代かまくらの将軍しやうぐんと御家人ごけにんとの関係を示したものである。XとYにあてはまる説明の組み合わせとして、正しいものはどれですか。次のア～エのうちから一つ選び、記号で答えなさい。

- ア X. 新しく領地りやうちを与える Y. 戦いの時につける
- イ X. 戦いの時につける Y. 新しく領地を与える
- ウ X. 御家人として任命する Y. 領地を差し出す
- エ X. 領地を差し出す Y. 将軍として認める



問10 鎌倉幕府が倒れたあと、京都に新しい幕府を開いた人物を答えなさい。

問11 江戸幕府が支配体制を整えることができた理由を説明しなさい。ただし、次の三つの用語のうちから一つを選び、その内容とともに説明すること。

- ・ 一国一城令いっこくいちじやうれい
- ・ 武家諸法度ぶけしよほつと
- ・ 参勤交代

問12 江戸幕府が倒れ、新しくできた明治政府たかに対し、板垣退助いたがきたいすけらは国会を開き多くの人の意見を取り入れることを求めました。このような運動を何といいますか。次のア～エのうちから一つ選び、記号で答えなさい。

- ア 大正デモクラシー イ 普通選挙運動ふつうせんきよ ウ 尊皇攘夷運動そんのうじやうい エ 自由民権運動

問 13 明治政府は、不平等条約を改定し、外国と対等な立場になれるよう交渉こうしょうを続けました。1894年に領事裁判権りょうじさいばんけんをなくすことに成功した人物は誰ですか。次のア～エのうちから一つ選び、記号で答えなさい。

ア 岩倉具視いわくらともみ イ 西郷隆盛さいごうたかもり ウ 陸奥宗光むつおねみつ エ 小村寿太郎こむらじゅたろう

問 14 明治以降、工業が発達する一方で公害も発生しました。足尾銅山鉍毒事件あしおどうざんこうどくに関わった人物は誰ですか。次のア～エのうちから一つ選び、記号で答えなさい。

ア 伊藤博文いとうひろぶみ イ 大久保利通おおくぼとしみち ウ 福沢諭吉ふくざわゆきち エ 田中正造たなかしょうぞう

問 15 1951年、米軍が日本国内に留とどまることを認めた条約は何ですか。次のア～エのうちから一つ選び、記号で答えなさい。

ア 日米和親条約 イ 日米安全保障条約ほしやう
ウ ポーツマス条約 エ ヴェルサイユ条約

4 次の各問いに答えなさい。

問1 たいらのきよもり平清盛について説明した①・②の正誤の組み合わせとして、正しいものはどれですか。下のア～エのうちから一つ選び、記号で答えなさい。

- ① なかのおおえのおうじ中大兄皇子とともにそが蘇我氏を倒した。
- ② 武士として初めてだいじょうだいじん太政大臣の地位についた。

	ア	イ	ウ	エ
①	正	正	誤	誤
②	正	誤	正	誤

問2 おだのぶなが織田信長について説明した①・②の正誤の組み合わせとして、正しいものはどれですか。下のア～エのうちから一つ選び、記号で答えなさい。

- ① てつぱう鉄砲を用いたながしの長篠の戦いに勝利した。
- ② あづち安土の城下町では、誰でも商売ができるようにした。

	ア	イ	ウ	エ
①	正	正	誤	誤
②	正	誤	正	誤

問3 江戸時代、各地でいつき一揆が起こった理由として正しいものはどれですか。次のア～エのうちから一つ選び、記号で答えなさい。

- ア そ租に加えちよう調・よう庸といった複数の重い税を課せられたから。
- イ ち地租改正を行うなどして新しい負担が増えたから。
- ウ 大きなき飢きんが起こり農作物がしゅうかく収穫できず、物のねだん値段が上がったから。
- エ 商人たちが米を買い占めて、米の値段が上がったから。

問4 明治から昭和の初めにかけて、日本はいくつかの国と戦争をしました。その説明として正しいものはどれですか。次のア～エのうちから一つ選び、記号で答えなさい。

ア 清と朝鮮をめぐる対立から日清戦争がおり、日本は勝利したが賠償金を得られず、国民の間には不満が残った。

イ 朝鮮にも勢力をのぼしてきたロシアに対し、日本国内では戦うべきだという意見が高まり、日露戦争がはじまった。

ウ 日本が満州にもっていた権利や利益を守ろうと、日本軍が中国に攻撃をしかけ第二次世界大戦が始まった。

エ 東南アジアに軍隊を進める日本を危険だと見なしたアメリカが、日本を攻撃したことから太平洋戦争が始まった。

問5 次の3つの出来事を古いものから年代順に正しく並びかえたものはどれですか。下のア～カのうちから一つ選び、記号で答えなさい。

① 南蛮貿易により、ボタン、カステラなどが入ってきた。

② まちにガス灯が設置され、馬車が走るようになった。

③ 渡来人により漢字や仏教が伝えられた。

ア ① → ② → ③

イ ① → ③ → ②

ウ ② → ① → ③

エ ② → ③ → ①

オ ③ → ① → ②

カ ③ → ② → ①

5 次の文章を読んで、[1]・[2]にあてはまる語句の組み合わせとして、正しいものはどれですか。下のア～エのうちから一つ選び、記号で答えなさい。

問1 2023年4月30日、アフリカ外遊中の[1]首相は、[2](カイロ)の大統領府でシーシ大統領と会談しました。戦闘が続くアフリカ北東部の隣国スーダンの和平を早期に実現するため連携することで一致しました。

- | | | |
|---|----------|----------|
| ア | [1] 岸田文雄 | [2] エジプト |
| イ | [1] 岸田文雄 | [2] トルコ |
| ウ | [1] 河野太郎 | [2] エジプト |
| エ | [1] 河野太郎 | [2] トルコ |

問2 2023年5月20日、[1]のゼレンスキー大統領が、G7サミット(主要国首脳会議)が開かれている[2]に到着しました。翌日、ゼレンスキー大統領は平和記念資料館を視察した後の記者会見で、「人類の歴史から戦争をなくさなければならない」と訴えました。

- | | | |
|---|------------|--------|
| ア | [1] フィンランド | [2] 広島 |
| イ | [1] フィンランド | [2] 長崎 |
| ウ | [1] ウクライナ | [2] 広島 |
| エ | [1] ウクライナ | [2] 長崎 |

問3 2023年6月28日、[1]省と日本銀行が新紙幣を2024年7月前半を目途に発行すると発表しました。デザイン刷新は2004年以来20年ぶりとなります。一万円札が「近代日本資本主義の父」と呼ばれる[2]、五千円札は津田梅子、千円札は北里柴三郎で、世界初となる偽造防止技術が採用されます。

- | | | |
|---|----------|----------|
| ア | [1] 厚生労働 | [2] 大隈重信 |
| イ | [1] 厚生労働 | [2] 渋沢栄一 |
| ウ | [1] 財務 | [2] 大隈重信 |
| エ | [1] 財務 | [2] 渋沢栄一 |

問4 2023年7月16日、日本などが参加する[1]の閣僚会議が開かれ、[2]が協定に加入することを正式に決めました。2018年の[1]発足後、新たな国が加わるのは初めてで、経済圏はヨーロッパにも広がることとなります。

- | | | |
|---|----------|------------|
| ア | [1] TPP | [2] イギリス |
| イ | [1] TPP | [2] スウェーデン |
| ウ | [1] APEC | [2] イギリス |
| エ | [1] APEC | [2] スウェーデン |

問5 2023年8月24日、東京電力は〔1〕第一原子力発電所の処理水の海洋放出を始めました。政府は、国際原子力機関（〔2〕）の協力を得て安全性を訴えてきました。そして、東京電力は輸出に被害が生じた場合、適切な賠償をするとコメントしています。

- | | | |
|---|--------|------------|
| ア | 〔1〕 福島 | 〔2〕 UNESCO |
| イ | 〔1〕 福島 | 〔2〕 IAEA |
| ウ | 〔1〕 東京 | 〔2〕 UNESCO |
| エ | 〔1〕 東京 | 〔2〕 IAEA |

6 ある小学校のクラスでは、社会の授業で班ごとに調べ学習を行いました。それぞれの調べ学習の内容について、次の問いに答えなさい。

問1 1班は国民権について調べました。発表中の〔A〕～〔C〕に入る短文(①～⑥)の組み合わせとして、正しいものはどれですか。下のア～カのうちから一つ選び、記号で答えなさい。

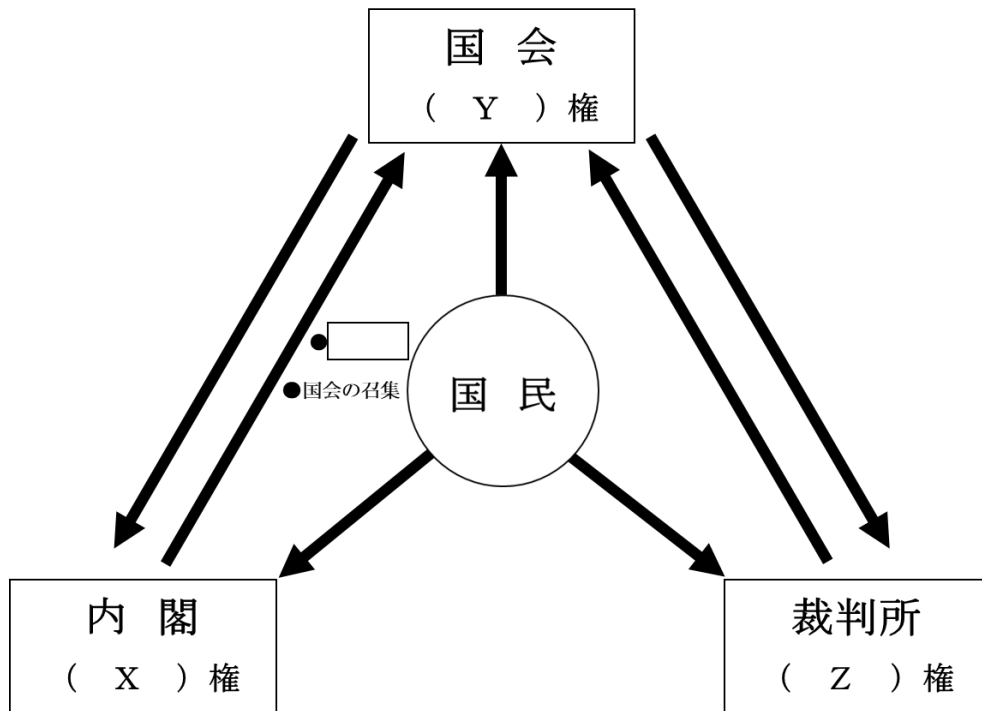
政治に参加する権利は、日本国憲法の三つの原則の一つである国民権にもとづきます。この国民権にもとづくものには、例えば次の3つがあります。

- ・日本国民は、〔A〕ことによって、政治に参加しています。
- ・日本国民は、地方公共団体の〔B〕ことができます。
- ・日本国民は、〔C〕かどうか、判断します。

- ① 憲法改正の発議をする
- ② 国会議員を選挙で選ぶ
- ③ 予算を多数決で決定する
- ④ 首長をやめさせる請求をする
- ⑤ 内閣の国务大臣として適している
- ⑥ 最高裁判所の裁判官として適している

- | | | | |
|---|------|------|------|
| ア | A. ① | B. ③ | C. ⑤ |
| イ | A. ① | B. ③ | C. ⑥ |
| ウ | A. ① | B. ④ | C. ⑥ |
| エ | A. ② | B. ③ | C. ⑤ |
| オ | A. ② | B. ④ | C. ⑤ |
| カ | A. ② | B. ④ | C. ⑥ |

問2 2班は^{さんけんぶんりつ}三権分立の関係図を作っています。図中の(X)・(Y)・(Z)にあてはまる語句(あ～う)と、図中の□にあてはまる内容(え～か)の組み合わせとして、正しいものはどれですか。次のア～ケのうちから一つ選び、記号で答えなさい。



(X)・(Y)・(Z)にあてはまる語句
 あ ^{しほう}司法 い ^{りっぽう}立法 う ^{ぎょうせい}行政

図中の□にあてはまる内容

え 内閣総理大臣の指名 お 衆議院の解散 か ^{だんがい}弾劾裁判所の設置

	ア	イ	ウ	エ	オ	カ	キ	ク	ケ
X	あ	あ	あ	い	い	い	う	う	う
Y	い	う	う	あ	あ	う	あ	い	い
Z	う	い	い	う	う	あ	い	あ	あ
□	え	お	か	お	か	え	え	お	か

問3 3班は防災と災害に関する法律について調べました。発表中の□A・□Bにあてはまる語句の組み合わせとして、正しいものはどれですか。次のア～エのうちから一つ選び、記号で答えなさい。

2023年は、□A大震災から100年の節目の年でした。この震災の発生日である9月1日は「防災の日」と定められ、日本における災害対策の出発点となりました。

現在では、□B法によって、災害が発生した直後、都道府県や市町村、日本赤十字社などの団体や国民の協力のもと、国が被災者を保護し社会秩序を守るために支援してくれます。この法にもとづいて、東日本大震災への緊急対応として、宮城県は□B法を適用して、必要な物資を被災地に送りました。

- ア A. 阪神・淡路 B. 災害救助 イ A. 阪神・淡路 B. 治安維持
ウ A. 関東 B. 災害救助 エ A. 関東 B. 治安維持

問4 4班は日本の国際協力について調べました。発表中の(□□□)にあてはまる語句をアルファベットで答えなさい。※一つの□には、アルファベット一字が入る。

青年海外協力隊は、政府開発援助の1つであり、自分の知識や技術を生かしたいという意欲をもった人たちが、発展途上の国や地域で活やくしています。一方で、国連や各国の政府から独立して活動している民間の団体である(□□□)【非政府組織】は、難民支援や植林活動、自然災害の復興支援など、世界各地でさまざまな国際協力の活動を行っています。

問5 5班は次の新聞記事を読んで日本の人口問題について話し合いました。その時の会話中の に入る語句と、 にあてはまる内容の組み合わせとして、正しいものはどれですか。あとのア～エのうちから一つ選び、記号で答えなさい。

日本人口最大の80万人減 全都道府県マイナス

総務省が26日付で公表した住民基本台帳に基づく人口動態調査によると、今年1月1日時点の外国人を含む総人口は1億2541万6877人で、前年と比べ約51万1千人減った。日本人に限ると約80万1千人減。減幅は1968年の調査開始以降の最大を更新し、初めて47都道府県全てでマイナスとなった。深刻な を反映しており、地域社会の維持に向けて若者や女性の雇用確保など対策が急務だ。外国人は増加した。

(3面に関連記事)

反映外国人は増

(2023年7月23日 中国新聞記事)

えいと：日本人の人口が約 80 万人減で、1968 年の調査開始以降の最大を更新したって書いてあるね。

すすむ：減少幅が、初めて 47 都道府県全てでマイナスとなったとも書いてあるよ。

とうこ：深刻な A が影響しているのね。

えいと：A はどれくらい進んでいるのかな。

すすむ：授業で配られた「出生数の年次推移，出生順位別」の資料を見てみよう。

出生数の年次推移，出生順位別

(単位：人)

出生順位	昭和60年 (1985)	平成7年 ('95)	17 (2005)	27 ('15)	令和元年 ('19)	2 ('20)	3 ('21)	* 4 ('22)
総 数	1,431,577	1,187,064	1,062,530	1,005,721	865,239	840,835	811,622	770,747
第 1 子	602,005	567,530	512,412	478,101	400,952	392,538	372,434	355,523
第 2 子	562,920	428,394	399,307	363,244	315,713	304,028	294,444	281,409
第 3 子以上	266,652	191,140	150,811	164,376	148,574	144,269	144,744	133,815

注：*印は概数である。

(厚生労働省資料)

とうこ：2022年に生まれた子どもは約 77 万人で、出生数の統計が開始されて初めて 80 万人を割ったというのを先生が言っていたのを覚えているわ。

えいと：1985年に比べて2022年の B になっていることに気づいた生徒がいたのを覚えているかな。

すすむ：覚えているよ。そこまでは考えなかったなあ。

とうこ：そうだ。資料をタブレットでもっと調べてみよう。

- ア A. 少子化 B. 出生数の総数が 30%以下
- イ A. 少子化 B. 第2子と第3子以上の出生数をそれぞれ四捨五入すると約 50%
- ウ A. 高齢化 B. 出生数の総数が 30%以下
- エ A. 高齢化 B. 第2子と第3子以上の出生数をそれぞれ四捨五入すると約 50%