

2023(令和 5)年度入学試験問題

社 会

(注意) 解答はすべて解答用紙に記入しなさい。

盈進中学校

1 次の各問いに答えなさい。

問1 現在、工業生産額が日本一の都道府県はどこですか。次のア～エのうちから一つ選び、記号で答えなさい。

ア 東京都 イ 神奈川県 ウ 愛知県 エ 大阪府

問2 情報はさまざまな産業を支えています。中でも自動車工業では、情報をもとに走行を可能にする人工知能をもった自動車が開発されています。人工知能の略称^{りやくしょう}を何といいますか。アルファベット2字で答えなさい。

問3 領土、領海、領空について述べた文のうち、正しいものはどれですか。次のア～エのうちから一つ選び、記号で答えなさい。

- ア 沿岸から200海里までの海を領海という。
- イ 領海の上空は領空にふくまれない。
- ウ 領土には、その国の陸地に囲まれた湖や川はふくまれない。
- エ 許可なく他の国の領土や領空に入ってはいけない。

問4 大陸と海洋について述べた文のうち、誤っているものはどれですか。次のア～エのうちから一つ選び、記号で答えなさい。

- ア 南極大陸は、太平洋、大西洋、インド洋のすべてに面している。
- イ 日本はユーラシア大陸の西側に位置し、大西洋の東側にある。
- ウ オーストラリア大陸は南半球にある。
- エ アフリカ大陸は大西洋とインド洋に面している。

問5 日本の食料生産をめぐる課題について述べた文のうち、誤っているものはどれですか。次のア～エのうちから一つ選び、記号で答えなさい。

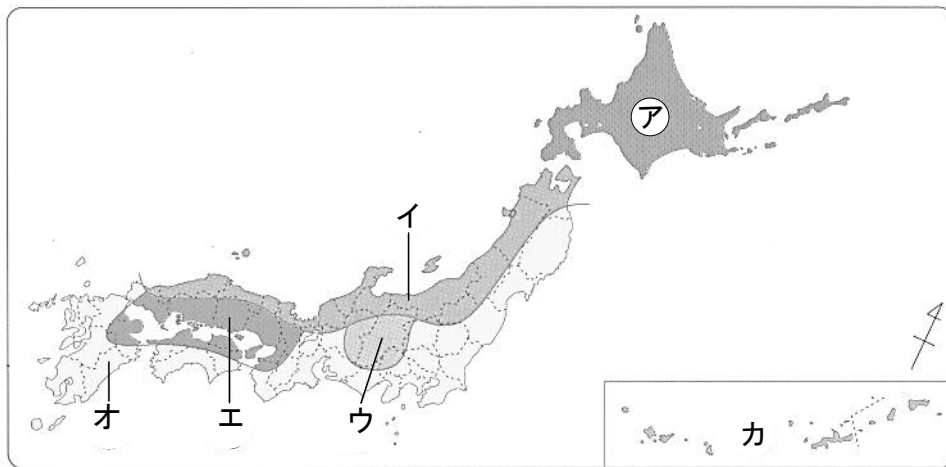
- ア 食料自給率は先進諸国の中でも低い方である。
- イ 耕地面積が減っている。
- ウ 食生活が変化し、パンを食べる人が増え、小麦の生産量は米の生産量を上回った。
- エ 漁業生産量が減少し、外国からの輸入にたよっている。

問6 食の安全・安心に対する取り組みについて説明した次の文①・②の正誤の組み合わせとして、正しいものはどれですか。あとのア～エのうちから一つ選び、記号で答えなさい。

- ① トレーサビリティのしくみを整え、消費者に生産の情報を伝える。
- ② 輸入食料に対して、^{けんえきしよ}検疫所で日本の法律にあった原材料でつくられたものかを検査する。

	ア	イ	ウ	エ
①	正	正	誤	誤
②	正	誤	正	誤

問7 6月中旬ごろから7月にかけて雨が降り続く現象がみられない地域はどこですか。次の地図中のア～カのうちから一つ選び、記号で答えなさい。



問8 次の写真は^{おきなわ}沖縄の伝統的な家と現在の家です。沖縄の家について述べた文のうち、誤っているものはどれですか。下のア～エのうちから一つ選び、記号で答えなさい。

〔伝統的な家〕



〔現在の家〕



- ア 台風の被害を弱めるために^{ひがい}さんごの石垣で家を囲んでいる。
- イ 水害から守るために^{ていぼう}堤防を築き、高い土地に家を建てたり、水屋を建てたりしている。
- ウ 水不足に備えて屋上に貯水タンクを設置している。
- エ 台風^{ひがい}に備え、家の屋根を低くし、かわらをしっくい^{いしがき}で固めている。

問9 次の文は日本の林業について述べたものです。文中の ～ に入る語句の組合せとして、正しいものはどれですか。下のア～カのうちから一つ選び、記号で答えなさい。

日本は昔から木の利用がとても盛んであった。国土面積の約 が森林で、世界の国の中でもそのわりあいが 。現在、林業で働く人は 。

- ア A. 4分の1 B. 高い C. 増えている
- イ A. 4分の1 B. 低い C. 増えている
- ウ A. 4分の1 B. 低い C. 減っている
- エ A. 3分の2 B. 高い C. 増えている
- オ A. 3分の2 B. 高い C. 減っている
- カ A. 3分の2 B. 低い C. 減っている

問10 風力発電、地熱発電、太陽光発電、水力発電の短所について述べた文のうち、風力発電にあてはまるものはどれですか。次のア～エのうちから一つ選び、記号で答えなさい。

- ア 夜は発電できないうえ、天候に左右される。
- イ 建設場所が限られ、火山の近くにあるため国立公園との調整が必要となることがある。
- ウ 設置場所によっては景観をそこなったり、騒音が問題になったりする。
- エ 建設時に周辺の環境や生態系に影響をおよぼし、降水量によって発電量が左右される。

問11 現在の日本は少子高齢化が問題になっています。次の表は、四つの市町(ア～エ)の人口を年代別にまとめたものです。最も高齢化がすすんでいる市町はどれですか。表中のア～エのうちから一つ選び、記号で答えなさい。

	14歳以下	15～64歳	65歳以上
ア 市	4万人	10万人	6万人
イ 市	1万人	7万人	2万人
ウ 町	5000人	1万5000人	1万人
エ 町	1000人	4000人	5000人

2 次の先生と生徒の会話文を読み、あとの各問いに答えなさい。

先生 昨年、福山城は築城400年の記念の年でした。天守は福山大空襲によって焼失しましたが、1966年に福山市のシンボルとして再建されました。

生徒 そうなんです。ところで福山という地名はいつごろから言われるようになったのですか。

先生 江戸時代に入り水野勝成が、地名を福山と名づけました。この機会に各班でテーマを決め福山の歴史や文化などについて、いろいろと調べてみましょう。

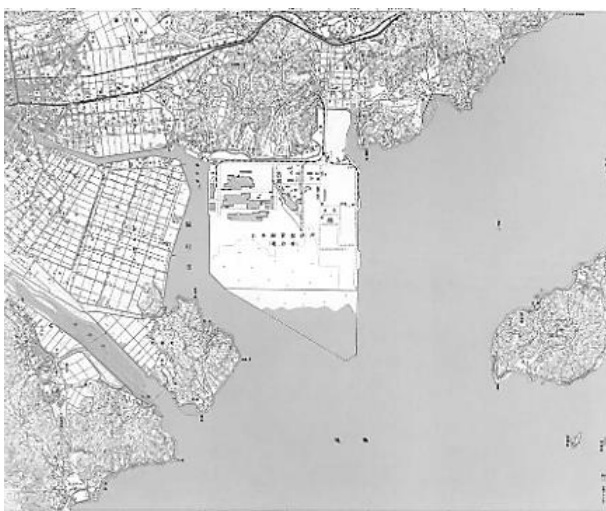
問1 1班は福山の歴史について調べました。次の各問いに答えなさい。

(1) 福山の歴史を調べるための公共施設として、あきらかに誤っている施設の地図記号はどれですか。次のア～エのうちから一つ選び、記号で答えなさい。



(2) 次のア～ウの地図は、1925年、1965年、2000年の福山周辺の地形図です。1925年の地形図はどれですか。下のア～ウのうちから一つ選び、記号で答えなさい。

ア



イ

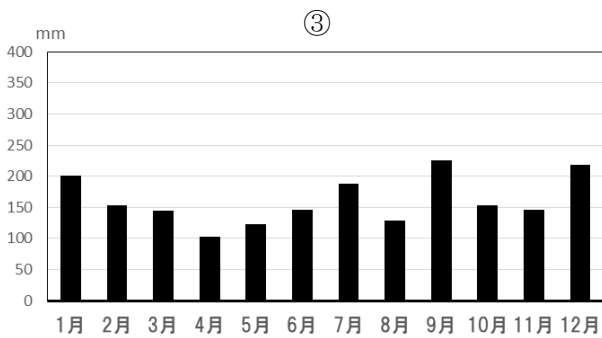
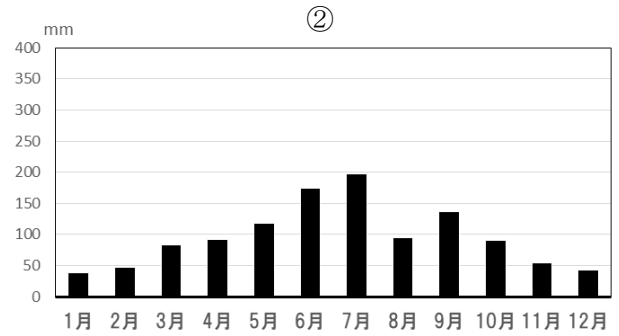
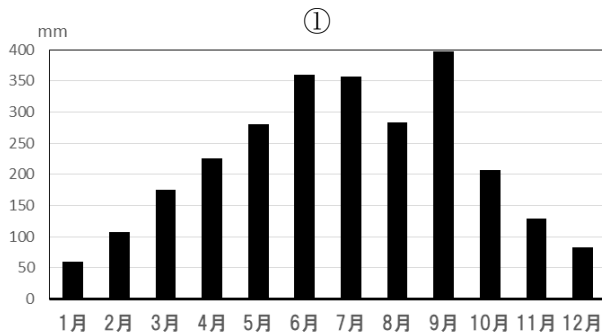


ウ



(国土地理院)

問2 2班は福山市の気候について調べました。次のグラフは福山市、高知市、鳥取市の年間降水量をあらわしたものです。それぞれの都市と①～③のグラフとの組み合わせとして、正しいものはどれですか。下のア～カのうちから一つ選び、記号で答えなさい。

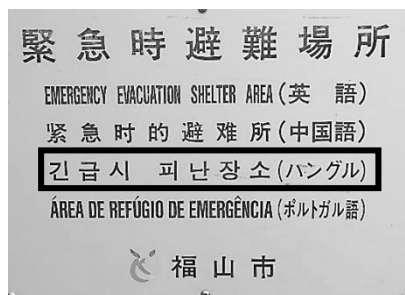


(気象庁)

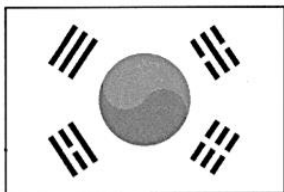
	ア	イ	ウ	エ	オ	カ
①	福山市	福山市	鳥取市	鳥取市	高知市	高知市
②	鳥取市	高知市	福山市	高知市	福山市	鳥取市
③	高知市	鳥取市	高知市	福山市	鳥取市	福山市

問3 3班は福山市の防災について調べました。次の各問いに答えなさい。


(1) 次の写真は、福山市の緊急時避難場所を示したものです。写真中の で囲んだ文字を使っている国の国旗はどれですか。あとのア～カのうちから一つ選び、記号で答えなさい。



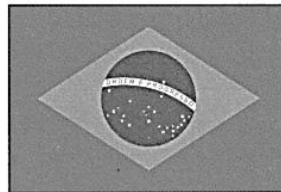
ア



イ



ウ




エ



オ



カ



(2) 次のア～エは、地震からくらしを守る取り組みとして、自助、共助、公助、互助についてまとめたものです。公助にあてはまるものはどれですか。下のア～エのうちから一つ選び、記号で答えなさい。

ア	イ
<ul style="list-style-type: none"> ・ボランティア活動を推進したり受け入れたりする ・募金活動や助け合い活動をする 	<ul style="list-style-type: none"> ・近所づきあいを大切にする ・ひなん訓練に参加する ・防災倉庫を確認し点検する
ウ	エ
<ul style="list-style-type: none"> ・防災ひなん計画を作成し周知する ・ひなん行動計画を作成し周知する 	<ul style="list-style-type: none"> ・もしものときは落ち着いて行動する ・ひなんリュックを用意する

(3) 気象庁が配信する緊急地震速報を伝えるメディアとして、誤っているものはどれですか。次のア～エのうちから一つ選び、記号で答えなさい。

ア 新聞 イ ラジオ ウ スマートフォン エ テレビ

問4 4班は福山市の伝統工芸品について調べました。次のア～エの写真は広島県の伝統工芸品です。福山市の伝統工芸品はどれですか。下のア～エのうちから一つ選び、記号で答えなさい。

ア



イ



ウ



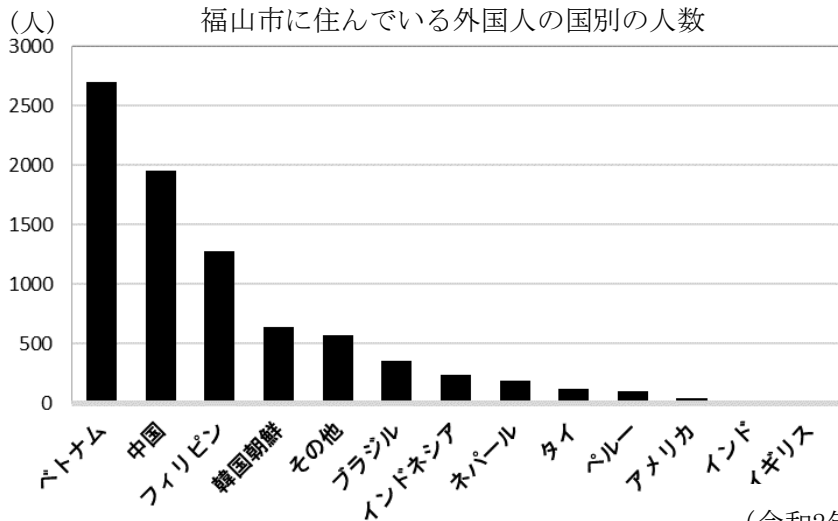
エ



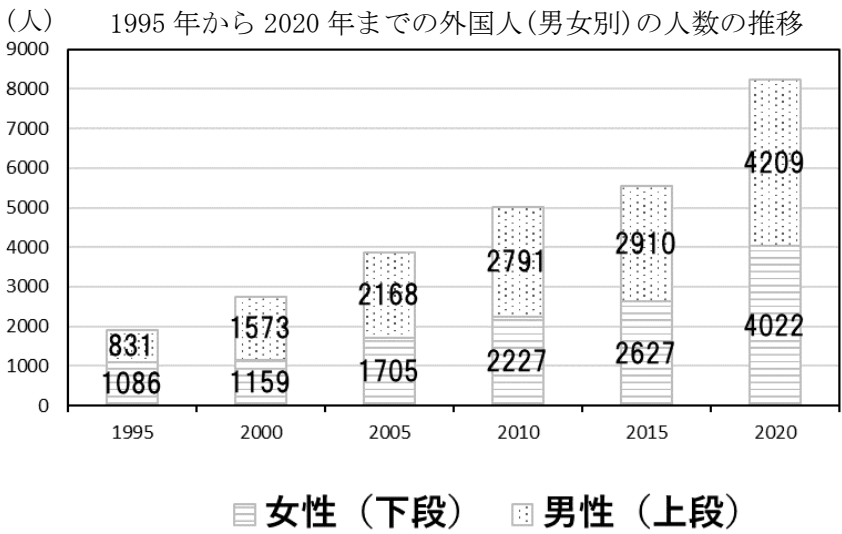
問5 5班は福山市のごみ処理問題について調べました。福山市は、ペットボトル、かん、ビンなどの資源を再利用しています。ペットボトルにあてはまるものはどれですか。次のア～エのうちから一つ選び、記号で答えなさい。

- ア アルミや鉄製品などにつくり直される。
- イ ペレットに変えて、服などの原料になる。
- ウ カレットに変えて、再生びんなどが作られる。
- エ エコスラグにして、道路工事の材料に使われる。

問6 6班は福山市に住んでいる外国人について調べました。次のグラフは福山市に住んでいる外国人の国別の人数と1995年から2020年までの外国人(男女別)の人数の推移をあらわしたものです。二つのグラフから読み取れる文として、誤っているものはどれですか。下のア～エのうちから一つ選び、記号で答えなさい。



(令和2年国勢調査より)



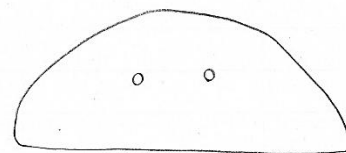
(令和2年国勢調査より)

- ア 福山市に住む外国人の人数は年々増えている。
- イ 福山市に住んでいるフィリピン人は中国人より少ない。
- ウ 性別をみると、2000年から男性の方が多くなっている。
- エ 2020年に福山市に住んでいる外国人の半分以上はベトナム人である。

3 次の日本の外交について説明した文章A～Eを読んで、あとの各問いに答えなさい。

A 日本と中国・朝鮮との交流は長く、中国の資料には紀元前1世紀頃の日本と中国・朝鮮の交流の記録も見られます。交流を通じてさまざまな物や文化が日本に伝わりましたが、稲作もそのひとつです。

問1 右の絵は、稲作に用いられたある道具を模しています。この道具の使用方法的説明として正しいものはどれですか。次のア～エのうちから一つ選び、記号で答えなさい。



- ア 稲の穂の部分だけを切り取るために使われていた。
- イ 米のもみ殻を取るために使われていた。
- ウ ぬかるみにはまらないように履いていた。
- エ 田を耕すために使われていた。

問2 稲作が日本各地に広まったのは何時代か答えなさい。

B 飛鳥時代から平安時代にかけては、遣隋使・遣唐使といった国からの正式な遣いが中国へと送られるようになり、そこに留学生も加わり政治や学問について学んでいました。また中国や朝鮮半島からは僧や商人が来日していました。

問3 奈良時代に、聖武天皇が日本に正式な仏教を広めるために招いた人物は誰ですか。次のア～エのうちから一つ選び、記号で答えなさい。

- ア 行基 イ 空海 ウ 最澄 エ 鑑真

問4 次の3つの出来事を、古いものから年代順に正しく並びかえたものはどれですか。下のア～カのうちから一つ選び、記号で答えなさい。

- ① 遣唐使の廃止
- ② 卑弥呼が中国に遣いを送る
- ③ 藤原京をつくる

- ア ① → ② → ③ イ ① → ③ → ② ウ ② → ① → ③
エ ② → ③ → ① オ ③ → ① → ② カ ③ → ② → ①

- C 13 世紀後半に、フビライ＝ハンは中国を支配するため都を大都に移し、国号を元に定めました。元は朝鮮半島にまで勢力を拡大し、ついには日本に迫^{せま}ってきました。これを元寇^{げんこう}といいます。14 世紀に入ると中国には新たに（ ）が成立し、元はモンゴル高原に追いやられました。

問5 元が日本に攻めてきた時の執権^{しつけん}は誰ですか。次のア～エのうちから一つ選び、記号で答えなさい。

- ア 北条政子^{ほうじょうまさこ} イ 北条時宗^{ときむね} ウ 足利義満^{あしかがよしみつ} エ 足利義政^{よしまさ}

問6 元寇後の社会について述べた文のうち、正しいものはどれですか。次のア～エのうちから一つ選び、記号で答えなさい。

- ア 鎌倉幕府の重要な役職に蘇我氏^{そが}以外の者が就くようになった。
イ 元に対する反抗心が高まり、元に進出するための足がかりとして朝鮮出兵を行った。
ウ 恩賞^{おんしょう}が少なかったこともあり、御家人の生活が苦しくなった。
エ 元から賠償金^{ばいしょうきん}を受け取り、そのお金で産業を発展させた。

問7 文中の（ ）には、室町幕府が貿易を行った中国の王朝名が入ります。その王朝名として正しいものはどれですか。次のア～エのうちから一つ選び、記号で答えなさい。

- ア 宋^{そう} イ 明^{みん} ウ 清^{しん} エ 漢

問8 雪舟^{せつしゅう}について述べた文のうち、正しいものはどれですか。次のア～エのうちから一つ選び、記号で答えなさい。

- ア 中国で水墨画^{すいぼくが}を学び、日本独自の画風を打ち立てた。
イ 中国の漢詩^{せんりゅう}を学び、日本で川柳^{せんりゅう}を確立した。
ウ 中国で焼き物の技術を学び、有田焼をつくりはじめた。
エ 中国の演劇^{かぶき}を学び、歌舞伎^{かぶき}をはじめた。

- D 15 世紀以降、ヨーロッパの国々が香辛料^{こうしんりょう}などを求めて東アジアに来るようになり、日本にも上陸しました。江戸幕府は、イギリスやポルトガル、東アジア諸国とも貿易を行っていました。しかし、3代将軍徳川家光の時には、外国人の出入りだけでなく日本人が海外へ行くことも、日本に帰国することも禁止しました。

問9 江戸時代に外国人の出入りを制限するため長崎につくられた、おうぎ形の人工島を何というか答えなさい。

問10 江戸幕府が一部の国に限定して交流した理由を述べた文のうち、正しいものはどれですか。次のア～エのうちから一つ選び、記号で答えなさい。

- ア キリスト教を広めるおそれがない国との貿易に限定したため。
- イ 日本にとって必要な資源を輸出してくれる国に限定したため。
- ウ 国内にある金銀がヨーロッパの国々にうばわれることを防ぐため。
- エ ヨーロッパでは多くの国が戦争をしていたので、戦争をしていない国に限定したため。

問11 江戸幕府の将軍の代が変わるごとに送られた、朝鮮からの使節を何というか答えなさい。

E 明治に入ると、日本は東アジアや欧米^{おうべい}の国々と新しい関係をつくりました。また、日本の産業を発展させ、いち早く欧米のような近代的な国をつくりあげるため、新しい技術などを取り入れました。しかしその一方で、朝鮮半島や中国へと領土を拡大した結果、世界各国と対立を深めることになり、第二次世界大戦では敗戦国となりました。

問12 文章E中の下線部のように近代的な国をつくろうとした理由を、次の資料を参考に簡単に書きなさい。

【資料】

1858年に結んだ日米修好通商条約には、次のようなことが決められていた。

- ・外国人が日本で罪を犯しても日本の法律ではなく外国の領事が裁判すること。
- ・輸入した商品にかかる関税を日本だけで決められないこと。

問13 日清戦争の要因を述べたものとして、正しいものはどれですか。次のア～エのうちから一つ選び、記号で答えなさい。

- ア ^{ちしまれつとう}千島列島をめぐる対立
- イ ^{つしま}対馬をめぐる対立
- ウ 朝鮮をめぐる対立
- エ 台湾をめぐる対立

問14 第二次世界大戦後、朝鮮半島が南北に分断されました。その時にできた二つの国の名を答えなさい。国の名は正式名称でなくてもかまいません。

4 次の各問いに答えなさい。

問1 古代の日本について述べた文①・②の正誤の組み合わせとして、正しいものはどれですか。
下のア～エのうちから一つ選び、記号で答えなさい。

- ① 大宝律令^{たいほうりつりょう}では、稲を納める租^そなどの税があった。
- ② 奈良時代に、東大寺の大仏がつくられた。

	ア	イ	ウ	エ
①	正	正	誤	誤
②	正	誤	正	誤

問2 中世の日本について述べた文①・②の正誤の組み合わせとして、正しいものはどれですか。
下のア～エのうちから一つ選び、記号で答えなさい。

- ① 平氏の政治に反対する武士たちを集めた朝廷^{ちやうてい}は、承久の乱を起こした。
- ② 室町時代に、寝殿造^{しんでんづくり}という建築様式が成立した。

	ア	イ	ウ	エ
①	正	正	誤	誤
②	正	誤	正	誤

問3 江戸時代について述べた文として、誤っているものはどれですか。次のア～エのうちから一つ選び、記号で答えなさい。

- ア 全国の大名を3種類に分け、配置をくふうした。
- イ 日本の守りをかためるため、徴兵令^{ちやうへいれい}を出した。
- ウ 大名に参勤交代を命じ、大名の負担を重くした。
- エ 武士や百姓^{ひやくしやう}、町人などの身分を固定した。

問4 近代の日本について述べた文として、正しいものはどれですか。次のア～エのうちから一つ選び、記号で答えなさい。

ア 明治時代に入り、西洋の考えが日本に入ってくると、教科書の一部の内容が不適切だとし
て、^{すみぬりきょうかしよ}墨塗教科書が使用されるようになった。

イ 明治時代に^{せいしぎょう}製糸業と^{ぼうせきぎょう}紡績業がさかんになり、工女とよばれる女性たちが朝早くから夜おそ
くまで働いていた。

ウ 第一次世界大戦の影響により、日本は輸出が増え景気が良くなり、高度経済成長がはじ
まった。

エ 大正時代に東京と大阪の間に東海道新幹線が開通し、高速道路も整備され、日本は大きく
発展した。

問5 次の3つの出来事を古いものから年代順に正しく並びかえたものはどれですか。下のア～カ
のうちから一つ選び、記号で答えなさい。

① 五カ条の^{ごせいもん}御誓文が出され、新たな政治方針が示された。

② 武士の裁判基準となる^{ごせいばいしきもく}御成敗式目が定められた。

③ 役人の心構えを示した十七条の憲法が定められた。

ア ① → ② → ③

イ ① → ③ → ②

ウ ② → ① → ③

エ ② → ③ → ①

オ ③ → ① → ②

カ ③ → ② → ①

5 次の文章を読んで、[1]・[2]にあてはまる語句の組み合わせとして、正しいものはどれですか。下のア～エのうちから一つ選び、記号で答えなさい。

問1 2022年4月1日、改正民法が施行され、20歳以上だった[1]が[2]歳以上に引き下げられました。[1]に関する規定変更は146年ぶりとなりました。

- | | | |
|---|-----------|--------|
| ア | [1] 成人年齢 | [2] 16 |
| イ | [1] 成人年齢 | [2] 18 |
| ウ | [1] 選挙権年齢 | [2] 16 |
| エ | [1] 選挙権年齢 | [2] 18 |

問2 2022年5月15日、沖縄が本土に復帰してから[1]年を迎えました。国土面積の約0.6%しかない沖縄県内には、今も在日アメリカ軍専用施設のおよそ[2]が集中しているうえ、経済面でも県民所得が全国平均の75%にとどまり、復帰当時に人々が期待した「本土並み」の実現には課題が多く残されています。

- | | | |
|---|--------|---------|
| ア | [1] 30 | [2] 40% |
| イ | [1] 30 | [2] 70% |
| ウ | [1] 50 | [2] 40% |
| エ | [1] 50 | [2] 70% |

問3 2022年5月22日、アメリカ合衆国の[1]大統領は、東京都内の米軍横田基地に到着しました。大統領就任後の訪日は初めてで、23日から[2]首相との首脳会談などに臨み、米国主導の新経済圏構想である「インド太平洋経済枠組み(IPEF)」の設立の指導を表明しました。

- | | | |
|---|----------|----------|
| ア | [1] バイデン | [2] 岸田文雄 |
| イ | [1] バイデン | [2] 菅義偉 |
| ウ | [1] トランプ | [2] 岸田文雄 |
| エ | [1] トランプ | [2] 菅義偉 |

問4 2022年6月23日、オーストリアの首都[1]で開催された[2]条約の第1回締約国会議で、批准国(=条約の内容を確認、同意する国)の理念をうたう「[1]宣言」と、条約具体化へ向けた50項目を記した「[1]行動計画」が採択されました。

- | | | |
|---|----------|------------|
| ア | [1] ウィーン | [2] 核兵器不拡散 |
| イ | [1] ウィーン | [2] 核兵器禁止 |
| ウ | [1] オスロ | [2] 核兵器不拡散 |
| エ | [1] オスロ | [2] 核兵器禁止 |

問5 2022年7月5日、[1]の加盟国は、^{ほくおウ}北欧のフィンランドと[2]の加盟を承認する議定書に署名しました。北欧2ヶ国の加盟が実現すれば、[1]の新規加盟は2020年の北マケドニア以来となります。

- ア [1] ^{かんたいへいよう}環太平洋パートナーシップ(TPP) [2] スウェーデン
 イ [1] 環太平洋パートナーシップ(TPP) [2] ブラジル
 ウ [1] 北大西洋条約機構(NATO) [2] スウェーデン
 エ [1] 北大西洋条約機構(NATO) [2] ブラジル

6 ある小学校のクラスでは、班ごとに「わたしたちの生活と政治」について調べ学習を行いました。それぞれの調べ学習の発表の内容を読んで、あとの問いに答えなさい。

問1 1班は基本的人権について調べました。次の発表中の[A]～[D]に入るカードの数字の組み合わせとして、正しいものはどれですか。下のア～カのうちから一つ選び、記号で答えなさい。

日本国憲法は、基本的人権を原則の一つとしてさまざまな国民の権利を保障しています。そこで、国民の権利をカードにまとめました。このカードのうち、「すべての国民が持つ差別されない」のはカード[A]、「中学校を卒業後、高等学校に進学する」のはカード[B]、「25歳になったら市長に立候補できるようになる」のはカード[C]が、それぞれあてはまる権利となります。

また、憲法にはこのような権利とともに、国民が守らなければならない義務についても定められています。カード[D]は国民の権利でもあり、義務でもあります。わたしたちは、このような権利を正しく知り行使するだけでなく、国民としての義務を果たしていくことが必要なのです。

カード① 言論や集会の自由	カード② 個人の尊重、男女平等	カード③ 裁判を受ける権利
カード④ 教育を受ける権利	カード⑤ 政治に参加する権利	カード⑥ 仕事について働く権利

- ア A. ① B. ② C. ③ D. ④
 イ A. ① B. ② C. ④ D. ⑤
 ウ A. ① B. ③ C. ④ D. ⑥
 エ A. ② B. ③ C. ④ D. ⑤
 オ A. ② B. ④ C. ⑥ D. ⑤
 カ A. ② B. ④ C. ⑤ D. ⑥

問2 2班は日本の平和に関して年表にまとめました。次の年表中の(a)～(c)にあてはまる語句(あ～か)の組み合わせとして、正しいものはどれですか。下の生徒と先生の会話を参考に、あとのア～クのうちから一つ選び、記号で答えなさい。

年	主なできごと
1945	8月6日、広島市に原爆投下 8月9日、(a)に原爆投下
1946	日本国憲法公布
1947	平和祭式典を実施、広島市長が平和宣言を発表
1949	平和記念公園の建設決定
1985	(b) 廃絶広島平和都市宣言を決議
1996	(c)、世界文化遺産に登録

生徒 毎年、8月6日に広島市の平和記念公園で平和記念式典が行われているのは、その日に原爆が投下されたからですね。

先生 そうですね。広島市以外にも同じ年の8月9日、(a)に原爆が落とされました。

生徒 (a)でも原爆で犠牲になった人びとを慰霊する式典が開催されているのですか。

先生 毎年、原爆犠牲者の霊を慰め、あわせて世界の恒久平和を祈るために、平和記念式典が行われています。また、広島市と同じく(b) 廃絶平和都市宣言を出している尼崎市では、原爆を体験した方たちが、平和の尊さと戦争の悲惨さなどを伝えるために、小学校などでその体験を語りつぐ「語り部活動」を行っています。

生徒 1996年に世界文化遺産に登録された(c)は、平和都市広島シンボルとなっていますね。

先生 他の市には、どんな平和のシンボルがあるか、みんなで調べてみましょう。

(a)にあてはまる都市

あ 宮崎市 い 長崎市

(b)にあてはまる語句

う 核兵器 え 原子炉

(c)にあてはまる語句

お 原爆ドーム か 平和の灯

	ア	イ	ウ	エ	オ	カ	キ	ク
a	あ	あ	あ	あ	い	い	い	い
b	う	う	え	え	う	う	え	え
c	お	か	お	か	お	か	お	か

問3 3班は日本の裁判制度について調べました。次の発表中の(a)・(b)にあてはまる語句の組み合わせとして、正しいものはどれですか。下のア～エのうちから一つ選び、記号で答えなさい。

国民は、だれでも裁判を受ける権利をもっています。また、判決に不服がある場合は、(a)まで裁判を受けられる制度があります。この制度の目的は、裁判のまちがいを防ぎ、(b)を守るためです。

- ア a. 3回 b. 人権 イ a. 3回 b. 黙秘権^{もくひけん}
ウ a. 5回 b. 人権 エ a. 5回 b. 黙秘権

問4 4班は国会について調べました。次の発表中の(a)にあてはまる語句を漢字で正しく答え、また(b)にあてはまる数字を答えなさい。

昨年7月に(a)議員選挙が行われました。国の政治の方向を決める国会では、国民の生活にかかわる法律や政治を進めるための予算などを多数決で決めます。(a)議員の任期は(b)年で、3年ごとに半数ずつ改選されます。

問5 5班は福山市の予算について調べました。次の新聞をもとに、福山市の予算案について発表しました。この発表中の **A** に入る語句と、 **B** にあてはまる内容の組み合わせとして、正しいものはどれですか。下のア～エのうちから一つ選び、記号で答えなさい。

福山市予算案最大1968億円

ごみ処理施設建設など

福山市は15日、2022年度の当初予算案を発表した。一般会計は1968億4千万円（前年度比11・4%増）で2年連続で過去最大を更新した。新型コロナウイルス対策や福山城築城400年記念事業、地域のデジタル化推進などに重点配分した。

枝広直幹市長は記者会見で「前年度比11・4%増の大規模な予算だが、大胆に緻密に、市民の安心をしっかりと確保するための予算を組んだ」と述べた。過去最大になった主な要因は、次期ごみ処理施設の建設費139億円を計上したことだ。24年夏の運用開始をめざして同市箕沖町に計433億円かけて新設する。現在4カ所にあるごみ処理施設を新施設に集約し、府中市や神石高原町からもごみを受け入れる。

(2022年2月16日 朝日新聞記事)

2022年度の福山市の予算案が約1968億円で、2年連続で過去最高を更新したことがわかりました。新型コロナウイルス対策や福山城築城400年記念事業、地域のデジタル化推進などさまざまな事業を行うために、多くのお金が必要となります。

市は、住民や会社などから **A** を集め、そのお金を使って、 **B** などが出来るのです。 **A** が何に使われているかを知ることが大切だと思います。

- | | | |
|---|--------|------------------------|
| ア | A. 補助金 | B. 会社の設立や郵便物を届けること |
| イ | A. 補助金 | B. 会社の設立やゴミの収集・処理をすること |
| ウ | A. 税金 | B. 道路の建設や郵便物を届けること |
| エ | A. 税金 | B. 道路の建設やゴミの収集・処理をすること |